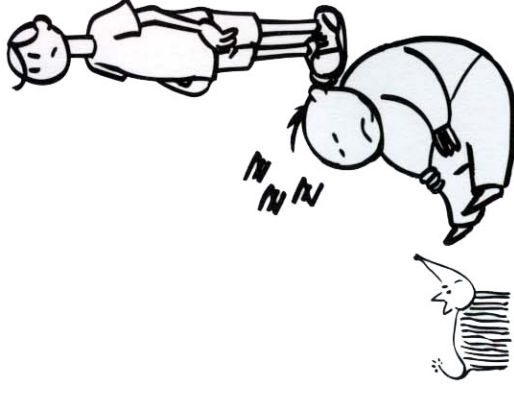


Colorea en el mapa, los ríos, las montañas y la ciudad de Murcia. El municipio de Murcia es uno de los más grandes de España, está formado por la ciudad de Murcia y 53 pueblos, de los cuales unos están situados en la huerta, otros en el campo y otros en el litoral del Mar Menor. Observa atentamente el mapa del municipio y realiza la ficha siguiente.



Los ríos que pasan por mi municipio son _____

El río que pasa por mi ciudad es _____

Las sierras más importantes del municipio son _____



La sierra más cercana a mi ciudad es _____

Mi ciudad está situada:

- 1 en la huerta en el campo en el litoral
- 2 en un valle en una montaña
- 3 al Norte del municipio al Sur del municipio

Los pueblos más cercanos a mi ciudad son _____





EL CENSO

estado civil estudios

año de llegada a Murcia

sexo	estado civil		estudios		profesión	centro de trabajo	lugar de nacimiento localidad y provincia	año de llegada a Murcia
	S/C/N	P/M/S	S/C/N	P/M/S				
H/M								

Las anotaciones que debes hacer para cumplimentar el cuadro del censo son las siguientes:

Sexo: H: Hombre
M: Mujer

S: Soltero/a
C: Casado/a
V: Viudo/a

Centro de trabajo:
Especificar tipo de empresa, si es estudiante, parado/a o jubilado/a.

Lugar de nacimiento
Localidad y provincia

P: Primarios
M: Medios
S: Superiores

Estudios