

AGRICULTURA Y GANADERIA

Observa las fotografías y señala cual de estas formas de cultivo se da en tu localidad:



1 SECANO



2 REGADÍO



3 INVERNADERO

¿Qué trabajos realiza el agricultor para cultivar la tierra?

¿De donde procede el agua que utiliza para regar: pozo, lluvia, río, embalse, ...?

¿Qué predominan, los minifundios (pequeñas propiedades) o los latifundios (grandes propiedades)?

Nombra algunos cultivos típicos de tu localidad.

Relaciona con flechas los siguientes productos agrícolas con la forma de cultivo que les corresponda.

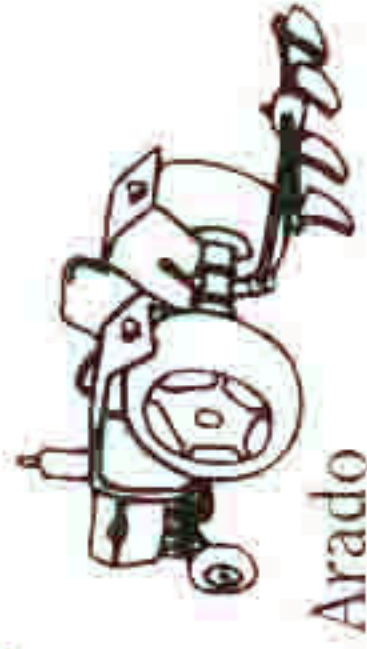
- almendro
- lechuga
- tomate
- olivo
- flores
- pimientos
- ajos y cebollas
- cítricos

secano

regadío

invernadero

El agricultor para trabajar la tierra necesita la ayuda de algunas herramientas. Indica para qué sirven las siguientes:



Arado

Sirve para



Corvillo

Sirve para



Sierra


Sirve para



Azada

Sirve para





Es probable que cerca del pueblo donde vives exista alguna zona natural próxima, donde puedes ir de excursión y conocer gran cantidad de seres vivos. El dibujo que viene a continuación representa un paisaje típico de cualquiera de nuestras sierras y plantas y pégalos en el dibujo en su número correspondiente




1. PINO



2. ENCINA



3. PALMITO



4. MADRESELVA



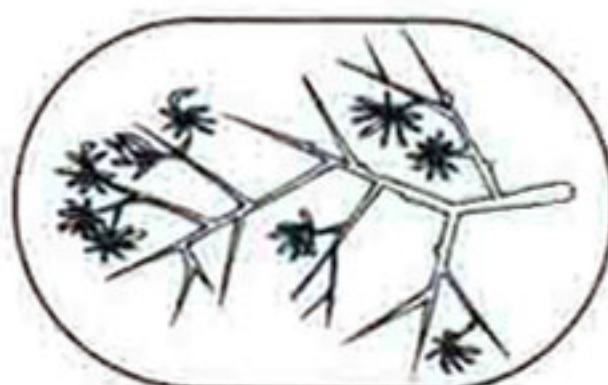
5. ARO




6. CIEMPIES




7. ORUGA




8. ESPINO



9. ESPARRAGUERA




10. UÑA DE GATO



11. ROMERO



12. AGUILA



13. PITO REAL



14. CARBONERO

ESPACIOS NATURALES

DESCUBRE TU REGIONIA

FICHA 19

SONIDAJA DE CULTURA
EDUCACION Y TURISMO

